


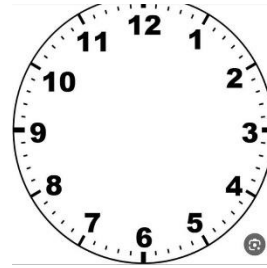
شکوفانه

چهارم

ابتدایی



✓ دلبندم لحظه تحویل سال نورا در ساعت زیر نشان بده.



✓ ساعت را به صورت یک عدد مخلوط بنویس .

✓ عدد مخلوط ساعت را روی محور نمایش بده.

✓ عدد مخلوط ساعت را با شکل نشان بده(واحد یک ساعت کامل باشد)

✓ آیا میتوانی دو کسر مساوی کسر ساعت بنویسی؟



✓ عزیزم دوست دارم خود را به جای صندوقچه ی حضرت
موسی(ع) بگذاری و داستانی از زبان ان بنویسی.



((گیاه دارویی گل گاوزبان))

✓ یکی از گیاهان دارویی گیاه ((گل گاوزبان)) است. این گیاه در حال حاضر هم به صورت صنعتی کشت میشود و هم به صورت خودرودر طبیعت وجود دارد و برای بعضی از بیماری ها بسیار مفید است.

مصارف دارویی این گیاه به این صورت است که گل های ابی رنگ ان را خشک نموده و از دم کرده ان استفاده میشود .

در سرماخوردگی به عنوان معرق و افزایش دهنده فشار خون مورد استفاده قرار میگیرد. همچنین این گیاه خاصیت آرام بخشی نیز دارد. ✓ تحقیق کنید و جدول زیر را کامل کنید.

نام گیاه	قسمت خوراکی	نوع استفاده
زعفران		
دارچین		
قهوه		
حنا		
زنجبیل		



✓ بچه ها می دانیم که در هر کاری برنامه ریزی لازم است.
اگر قرار باشد در تعطیلات نوروز به مسافرت بروید و
برنامه ریزی مسافرت به عهده ی شما باشد چگونه این کار
را انجام می دهید؟

✓ موارد خواسته شده را انجام دهید.
-استان محل زندگی خود را سبز رنگ کنید.
-مقصد شما کجاست؟ رنگ زرد بزنید.
-دوست دارید در طول مسیر از کدام استان ها عبور
کنید؟ آنها را قهوه ای رنگ کنید
-مسیر حرکت خود را از مبدا تا مقصد با خط چین
قرمز نشان دهید.
-دریاها را آبی رنگ کنید.



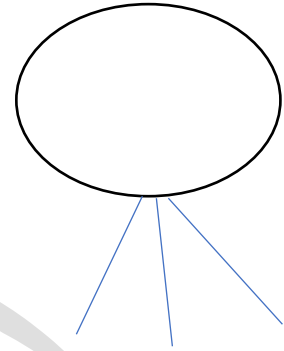
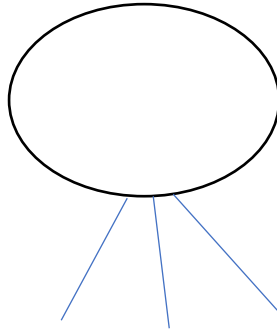
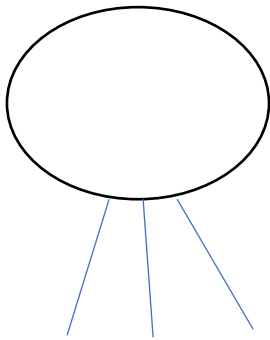
✓ دلبندم یک خانه با مربع هایی به ضلع ۱ سانتی متر و مستطیل با طول و عرض ۳ و ۲ سانتی متر و مثلثی به ارتفاع ۲ و قاعده ۳ سانتی متر طروری طراحی کنید که مستطیل خانه مثلث سقف و دو مربع پنجره های خانه باشند.
اگر دیوار بیرونی و سقف (قسمتی که شما میبینید) رنگ امیزی شود و پنجره ها رنگ نشود چه مساحتی رنگ امیزی شده است؟

✓ قبضی را از مادرت بگیر. مبلغ قابل پرداخت آن را با عدد و حروف بنویس و داخل جئول ارزش مکانی ببر. سپس عدد را به صورت گسترده بنویس مبلغ را با مبلغ قبض ماه قبل مقایسه کن. ببین صرفه جویی کرده اید یا نه؟ اگر نه چکار کنید تا مصرف شما کمتر شود؟

ایا میدانستید که:

خرس قطبی هنگامی که روی دوپا می ایستد تقریبا ۳ متر است!!!

✓ لیستی از چند شغل تهیه کنید و برای هر کدام در جاهای مشخص شده ابزار و مفاهیم مربوط به آن را بنویسید.



تو شاخه ی درختا شکوفه های گیلان
محله ی قدیمی کوچه های تودرتو
اول میریم دیدن بزرگترها ی فامیل

توکوچه و محله پر شده از عطر یاس
خانه ی مادر بزرگ شلوغ و پررهایو
تو جشن عید نوروز نقل و نبات واجیل

نویسنده کوچک من یک داستان خیالی از زبان خون در بدن خودت بنویس و وظایف مهمی که دارد را بیان کن.

((موفق باشید))