

وَاللَّهُ سَمِيعٌ عَلِيمٌ
مَنْ عَمِلَ سِوَا ذَلِكَ لَمْ يَكُنْ يَتَّبِعُ مَا يُحْيِي وَيُمِيتُ
وَاللَّهُ يَخْتَارُ مَا يَشَاءُ لِيُخَوِّدَ مَنْ يَشَاءُ
وَاللَّهُ سَمِيعٌ عَلِيمٌ

سَآلُ نَوْمِ مُبَارِكٌ يُنَادِي



سَآلُ ١٤٠٣

شكوفانه

ويژه پايه پنجم

دبستان دخترانه غير دولتي پديده نوين



رسم عجم لولسی الفرج



دانش آموز خوبم سلام

در بهاری زیبا به دیدنت آمدیم تا زندگی دوباره ی طبیعت را با دیگر نظاره کنیم و به شادی بنشینیم.
سالی پر از نشاط، شادابی و سلامتی برای شما و خانواده ی محترم آرزو مندیم.

نام و نام خانوادگی:



ساعت..... ودقیقه و..... ثانیه





ریاضی



به سوالات زیر پاسخ دهید.

الف) عدد ۹۰۵، ۳۰۲، ۰۰۲، ۴۸۵ را به حروف بنویسید؟.....

ب) بزرگترین رقم در مرتبه هزارگان کدام است؟.....

ج) اگر این عدد را در $\frac{1}{10}$ ضرب کنیم. حاصل چه عدد خواهد شد؟
.....

د) با ضرب این عدد در $\frac{1}{10}$ ارقام ۵ در آن به چه مرتبه ای می‌روند؟



۲- مقایسه کنید.

د) $\frac{13}{3} \bigcirc 4\frac{2}{5}$

ب) $3:70:60 \bigcirc 4:35:00$

الف) $9898989 \bigcirc 3232323232$

خ) $0.48 \bigcirc 0.99$

ح) $\frac{3}{8} \bigcirc 0.950$

ج) ۹۰۰ ثانیه $\bigcirc \frac{1}{4}$ ساعت




۳- پریا سال ۱۳۷۹ و روژان سال ۱۳۸۸ بدنیا آمده اند. کدام یک بزرگتر است؟

در سال ۱۴۰۲ سن هر کدام چند سال بوده است؟



۴- مریم و منصوره تعدادی کتاب دارند که $\frac{3}{7}$ کتاب‌ها برای مریم و بقیه برای منصوره است. منصوره ربع کتاب

های خود را خواند. مریم چه کسری از کتاب‌ها را خوانده است؟




۵- حاصل عبارات خواسته شده را بدست آورید.

الف) اختلاف ثلث عدد ۸ و نصف عدد ۴ می شود؟

ب) حاصل ضرب $1\frac{2}{3}$ در $2\frac{1}{2}$ به روش مساحتی به دست آورید؟ (با شکل)

ج) حاصل $3 \times \frac{2}{5}$ را با کمک رسم محور به دست آورید؟

د) حاصل $5 \div 2$ را با کمک شکل به دست آورید؟




۶- دختر خوبم، اگر طول و عرض صفحات دفترت به ترتیب $20/4$ و $12/65$ باشد. و بخواهی در دفترت یک لوزی با قطرهای ۶ و $2/5$ را رسم کنی. چند سانتی متر از مساحت این صفحه باقی می ماند؟



نوروز مبارک باد





۷- دختر هوشمندم حساب کن از آخرین روزی که مدرسه بوده ای تا به امروز ، چند روز گذشته است ؟ تعطیلات نوروز را نیز محاسبه کن که چند روز است ؟



* نسبت ایام نوروز به ایام تعطیل را بنویس:

* چند درصد از ایام تعطیلی را نوروز تشکیل می دهد ؟ (در صورت نیاز برای محاسبه آخرین عدد از ماشین حساب استفاده شود)



تعطیلات نوروز


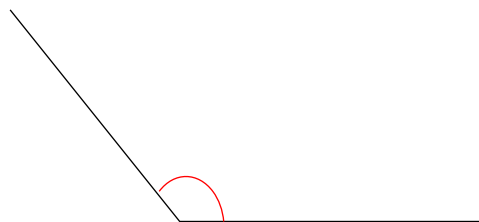
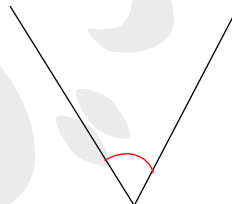


ایام نوروز



۸- نقاله ایی بردارید و جاهایی که زاویه دست شده را اندازه بگیرید و یادداشت کنید.

کنار اندازه هر زاویه نوع آن (تند - باز - قائمه) را هم بنویسید؟ سپس نیمساز هر کدام را بکشید.





دانشمند کوچک به دلخواه خود یکی از پروژه های علمی زیر را انجام بده و مراحل کاوشگری کاوشگری آن را بنویس.

الف) تأثیر رنگ نورهای آبی - سبز - زرد بر رشد یک گیاه را بررسی کنید.

ب) در یک آزمایش میزان غوطه ور شدن تخم مرغ در آب و آب نمک را بررسی کنید. (میزان غلظت نمک بررسی شود).

ج) روی یک کاغذ معمولی با کمک مقداری سرکه یا آلیمو که با آن نوک قلم خود را آغشته کرده اید . یک نوشته بدون رنگ بنویسید و سپس آن را بالای حرارت یک شمع قرار داده (طوری که برگه نسوزد) (طرح سوال - فرضیه - آزمایش - نتیجه)

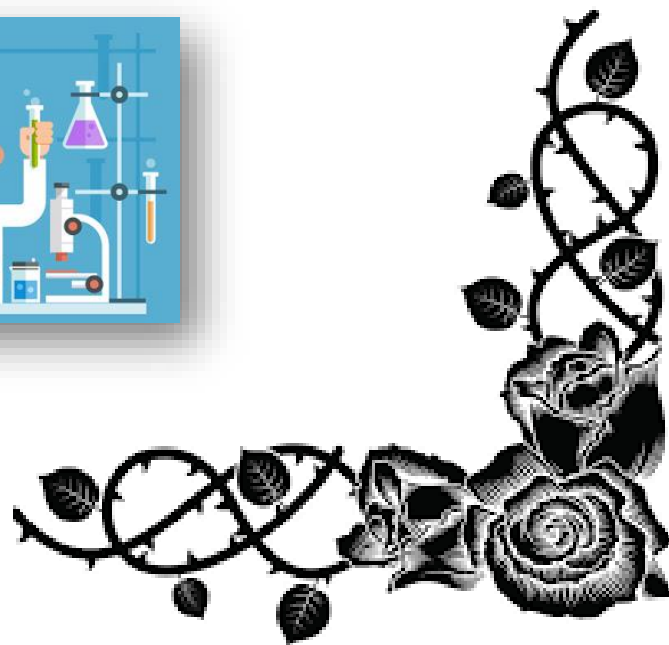


A large rectangular area with a purple scalloped border, containing ten horizontal dotted lines for writing.



دانش اندک به همراه عقل بهتر از علم بسیار بدون عقل است.

امام علی (ع)





۲- در این روزهایی که بیشتر در منزل به سر می برید

ماشین های پیچیده و ساده ای که در منزل هستند را به دقت بررسی کنید .

و جدول زیر را کامل کنید.

ماشین پیچیده

--۱
--۲
--۳
--۴



ماشین ساده

--۱
--۲
--۳
--۴



۳- از مشاهده فسیل یک پلانکتون چه اطلاعاتی می توان بدست آورد؟

.....

.....




۴- وقتی که شروع به نوشتن می کنید . وظیفه دستگاه عصبی برای این کار چیست؟

(مراحل آن را توضیح دهید)

.....





.....

.....





۱- از کتاب مطالعات اجتماعی و هدیه ها مجموعاً ۲۰ موصوف و صفت (از هر کتاب ده موصوف و صفت) پیدا کرده و در گلبرگ های زیر قرار دهید.



۲- برای هر یک از گوش دادنی ها و شنیدنی ها مثال بزنید . (هر کدام دو مورد)

گوش دادنی : و

شنیدنی : و





3- از متن کتاب علوم 5 جمله سوالی که با کلمات پرسشی مانند **کدام - چه - چگونه** - آغاز شده اند را انتخاب کرده و بنویسید.

..... (1)

..... (2)

..... (3)



..... (4)

..... (5)



جدول زیر را کامل کنید. (با توجه به متن کتاب فارسی و آنچه که می دانید)

هم خانواده	متضاد	مترادف	کلمه
			نیکو
		روشنایی	
عبور			
			گذشته
			خفت
	جهل		



موریانه بخشی از کلمات متن دیکته زیر را خورده است آن ها را کامل کنید.

در روزگاران کهن مثل امروز خبری از وروس کرونا نبود.

مردم با کمک طبیبان آن زمان که نامش را ریشی بود، با آزمایش یک تکه گوش، پی بردند که باید مری آن جایی تعیین شود که دور از مرکز شهر باشد.

ریشه اصلی ترس های نادرست، در جهل و نادانی است. پزشکان و پرستاران در بیمارستان ها و بخش های جراحی، مدافعین سلامت ما در این مراکز هستند که به نوعی سلامتمان را تضمین می کنند.

خداوند مهربان همه جا حضور دارد با یاری پروردگار بزرگمان و توسل به امامان معصوم (ع) و ذکر یا صاحب آمان به دلهایمان آرامش دهیم.



برای تصویر زیر داستانی تخیلی و خنده دار بنویسید. (لازم به ذکر است از ترکیب وصفی و اضافی استفاده کنید و با مداد

قرمز این کلمات را بنویسید.)



.....

.....

.....

.....

.....


.....


.....

.....

.....

.....





تکایف مهارت محور



در اخبار اعلام شد خودروی تولید شده است که بدون سوخت کار می کند
به نظر شما خودروی که بدون سوخت کار می کند چگونه می تواند حرکت کند؟
نقاشی این خودرو را بکشید.

شما ظاهر خود را شبیه یک اخبارگو کنید و این خبر را برای هموطنان تان اعلام کنید.



برای درست کردن غذایی که نه کسی دیده، نشنیده، نچشیده، آماده شوید:- شما اولین نفری هستید که این غذا رو درست میکنید این غذا به نام شما ثبت می شود پس تمام تلاش خود را کنید تا مردم از خوردن غذای شما لذت ببرند یک اسم برای غذای خود انتخاب کنید مواد لازم برای پخت این غذا را به همراه مقدار هر کدام بنویسید چرا از این مواد برای درست کردن غذای خود استفاده کردیم دلیل استفاده را برای هر کدام از مواد بنویسید برای انتخاب مواد تشکیل دهنده غذایی خود با بزرگترها مشورت کنید. آیا آنها مخالف مواد انتخابی شما بودند؟ چرا؟ دستور درست کردن این غذا را بنویسید. از مراحل انجام کار فیلم و عکس تهیه کنید. غذا را در ظرفی تهیه کنید و از آن یک عکس زیبا بگیرید. افرادی که از غذای شما میل کردند چه واکنشی هنگام خوردن اولین لقمه از خود نشان دادند؟ احساساتشان از خوردن غذاهایی که برای اولین بار درست شده است را بپرسید و بنویسید تجربه های خود را از درست کردن این غذا بنویسید. چگونه می توانیم غذای خود را بهتر کنید؟



در یک روز عید به پنج مغازه مختلف بروید.

هر کدام از مغازه ها برای اجناس خود تخفیف در نظر گرفته‌اند از هر مغازه یک کالا را برای خرید انتخاب کنید قیمت آن کالا چند است؟ با توجه به درصد تخفیف به فروشنده برای آن کالا در نظر گرفته است قیمت آن چقدر می شود؟ در خرید هایی که انجام دادی چقدر سود کردی؟ محاسبات ریاضی برای خرید از هر مغازه را بنویس. لطفاً در مغازه اگر مایعاتی را دیدید که در گنجایش مختلف می باشد از آنها هم عکس بگیرید و حجم آنها را یادداشت کنید و واحد اندازه گیری مایعات را بیان کنید.



سه کار خوب که امروز انجام دادی را به صورت جمله کوتاه بنویسید و بعد آن را گسترش بدهید و یکی از سوره های قرآن را که حروف مقطعه دارد را انتخاب کنید و با ترتیل بخوانید.

جرم و قیمت ۵ کالا را از روی بسته بندی آن بخوانید و نسبت جرم به قیمت را بنویسید آن را ساده کن و برای آن ۵ تناسب بنویسید.

تاریخ تولد اعضای خانواده ات را به صورت روز، ماه، سال بنویس.

و اعداد مرکب به دست آمده را با همدیگر جمع کن.

فکر می کنی در تاریخی که به دست می آوری دنیا چگونه است؟
و چه تغییراتی در دنیا به وجود آمده است؟
آن را نقاشی بکش و در یک بند این دنیای خیالی رو توصیف کن.



کتاب حافظ را بردار

و یک شعر را به انتخاب خودت با احساس های مختلف (حماسی، عاطفی، ...) برای دیگران بخوان
و از دیگران بخواه تا احساس خود را نسبت به خواندن تو بیان کنند.



یک سینی گرد بردار شعاع و قطران را یادداشت کن. محیط آن را بدست بیاور. اگر شعاع دو برابر
تغییری می کند؟





تحقیق کنید طول بزرگترین دایناسور چند متر بوده است؟

در کدام قسمت از کره زمین بیشتر زندگی می کردند؟ در مورد فسیل دایناسور چه می دانی؟

اگر بخواهیم این دایناسور را به ۶۰ قسمت مساوی تقسیم کنیم هر قسمتش چه کسری از دایناسور می شود؟

داستان دایناسوری را بنویس که هنوز زنده است و یک نام زیبا برایش انتخاب کن.

پایلهای

