





پیک نوروزی ۱۴۰۳ پایه ششم دبستان



فرزندم ، سفره هفت سین زیبایی را با خلاقیت خودت طراحی کن

سال نو مبارک



یکی از دعاهای مشهور میان ما ایرانی‌ها که سنت‌های ایرانی مان را با آموزه‌های دینی گره می‌زند و سبک زندگی هامان را رنگ اسلامی ایرانی می‌بخشد، دعای مشهور تحویل سال است که در عین کوتاهی و اختصار، دنیایی از معرفت و حقیقت را در خود جای داده است.

يَا مُقَلِّبَ الْقُلُوبِ وَ الْأَبْصَارِ

يَا مُدَبِّرَ اللَّيْلِ وَ النَّهَارِ

يَا مُحَوِّلَ الْحَوْلِ وَ الْأَحْوَالِ

حَوْلًا حَالِنَا إِلَى أَحْسَنِ الْحَالِ

معنی این آیه را بنویس .

نام سوره‌هایی که با حروف « سین » یا « صاد » شروع شده اند را بنویس .



در یکی از روزهای عید نوروز به همراه خانواده به زیارت امامزاده ای می‌روید :

در آن مکان مقدس چه آدابی انجام می‌دهید ؟

یک خط از اول « زیارت نامه ی » ایشان بنویس.


.....

درباره‌ی زندگی نامه ی او تحقیق کن و در سه سطر برایم بنویس .

.....

.....

آیا می‌دانی شخصیت‌های زیر چه نسبتی با امام حسین (ع) داشتند ؟





حضرت علی (ع):

حضرت قاسم (ع):

امام حسن مجتبی (ع):

حضرت زینب (س):

جاهای خالی را با کلمات داخل کادر کامل کن .

ضعیفان _ حریف _ سودایی _ بازآیی _ بستان _ نپیمایی _ زلفش _ غم

ای پادشه خوبان داد از تنهایی

دل بی تو به جان آمد وقت است که

دایم گل این شاداب نمی ماند

دریاب را در وقت توانایی

دیشب گله از با باد همی کردم

گفتا غلطی بگذر زین فکرت


صد باد صبا این جا با سلسله می رقصند

این است ای دل تا باد



خانه کعبه را و تجدید بنا کرده اند .

مسلمانان هفت بار به دور خانه ی خدا می گردند ، این عمل نام دارد .



لباسی که مردم به هنگام مراسم حج می پوشند نام دارد .

در پایان مراسم حج حاجیان انجام می دهند که یکی یادگار های حضرت ابراهیم (ع) است.



نازنین زهرا می خواهد در ایام نوروز به همراه خانواده ی خود به شهر مکه در کشور عربستان سفر کند و مدت ۸ روز در آنجا بمانند ، حکم نماز آن ها چگونه است ؟

مفهوم ضرب المثل های زیر را بنویس .

«سالی که نکوست از بهارش پیداست.»


«بزک نمیر بهار میاد کمبزه با خیار میاد.»



فرزندم ، یکی از فیلم های تلویزیون را در تعطیلات نوروزی نگاه کن و به پرسش های زیر پاسخ بده

نام فیلم : موضوع فیلم :

خلاصه ی فیلم :



شعر **نفس باد صبا** از شاعر عزیز کشورمان **حافظ** است ، معنا و مفهوم آن را بنویس .

عالم پیر دگرباره جوان خواهد شد

نفس باد صبا مشک فشان خواهد شد

چشم نرگس به شقایق نگران خواهد شد

ارغوان جام عقیقی به سمن خواهد داد

تا سراپرده گل نعره زنان خواهد شد

این تطاول که کشید از غم هجران بلبل

که به باغ آمد از این راه و از آن خواهد شد

گل عزیز است غنیمت شمیریدش صحبت

قدمی نه به وداعش که روان خواهد شد

حافظ از بهر تو آمد سوی اقلیم وجود



داستان زیر از کتاب گلستان سعدی انتخاب شده است ، آن را بخوان و علایم نگارشی مناسب برای آن بگذار .


در زمان های قدیم پادشاهی بود که دو وزیر داشت ○ یکی مهربان و خوش زبان ○ دیگری بدجنس و بد زبان ○ وزیر بدجنس همیشه به وزیر مهربان حسادت می کرد و می خواست او را پیش پادشاه بد نشان دهد ○ یک



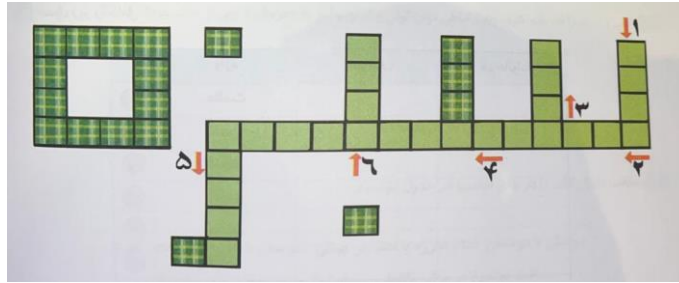
روز اسیری را که پادشاه قصد مجازات او را داشت نزد پادشاه آوردند اسیر در حالت ناامیدی پادشاه را دشنام داد

پادشاه از وزیر مهربان پرسید این مرد چه می گوید او گفت او شما را دعا کرد و می گوید پادشاه از خطای مردم می گذرد پادشاه از شنیدن این خبر خوش حال شد و اسیر را آزاد کرد وزیر بد جنس نزد پادشاه رفت و گفت آن مرد شما را دشنام داده چرا او را آزاد کردید پادشاه گفت با این که وزیر راستش را نگفت ولی با این کار باعث نجات جان یک نفر شد ولی راست گفتن تو به علت حسادت بود

سپس به وزیر مهربان پاداش داد و وزیر بدجنس و حسود را از کاخ خود بیرون کرد



جدول زیر را حل کن .



(۱) فراز و

(۲) به معنای عادل

(۳) معنی آذر

(۴) باب پنجم گلستان سعدی

(۵) هم خانواده علم

(۶) در خان چهارم رستم با گری رو به رو می شود .

فرزندم ، شما نام بزرگراه « شهید خرازی » را در شهر تهران بارها و بارها شنیده ای ، آیا می توانی درباره ی زندگی نامه ی این عزیز تحقیق کنی و در چند سطر توضیح دهی .




در روزهای پایانی اسفند ماه : مادر هانیه تصمیم داشته با جوهر نمک و وایتکس ، سرویس بهداشتی حمام و آشپزخانه را تمیز کند ، فکر می کنی هانیه چه مواردی به مادر خود یادآوری کرده است ؟





در روزهای عید نوروز ، شما آجیل و شکلات 🍫 و شیرینی زیاد می خوری. در جدولی مصرف یک روز خود را نوشته و مقدار انرژی آن را محاسبه کن.



روز ۱۳ فروردین (سیزده بدر) روز طبیعت نام گذاری شده است .

فهرستی از رفتارهای ناسالم خود و دیگران را در این روز بنویس و راه حل هایی برای عدم تکرار این رفتارها ارائه بده .



درسا (دانش آموز پایه ششم) به همراه خانواده اش به جنگل های استان گلستان رفته است . بر روی تنه ی درختان قارچ هایی به شکل زیر دیده اند .

شما فکر می کنید درسا چه توضیحاتی در مورد این جاندار به خانواده ی خود داده است ؟





در مسافرت عید نوروز پس از مدتی لاستیک خودروی پدر رها فرسوده و صاف شده است ، آیا می توانی علت آن را به رها توضیح دهی؟



بریده و
پدیده نوین

روی نقشه ، نام رودهای مرزی ایران را مشخص کن .



به نقشه ی ایران در ایام نوروز ی نگاه کن.

الف) اگر بخواهی به استان هایی سفر کنی که در آن جا « برنج » کشت می کنند ، چند استان را انتخاب می کنی ، نام آن ها را بنویس.





ب) اگر بخواهی به استان هایی سفر کنی که در آنجا « پالایشگاه گاز » دارند . چند استان برای انتخاب شما وجود دارد ، نام آن ها را بنویس .



در دی ماه سال ۱۳۹۶ کشتی نفت کش « سانچی » ایران در آبهای کشور چین دچار سانحه شد و متأسفانه بعد از آتش گرفتن ، غرق شد.

آتش سوزی این کشتی عظیم چه آسیبی به محیط زیست وارد کرده است . در این باره شرح بده.



اگر بخواهی در ایام نوروز به کشور « ترکیه » سفر کنی به چه مدارکی نیاز داری ؟

در کشور ترکیه از چه مناطقی دیدن می کنی ؟

چه سوغاتی برای دوستان و فامیل می آوری ؟

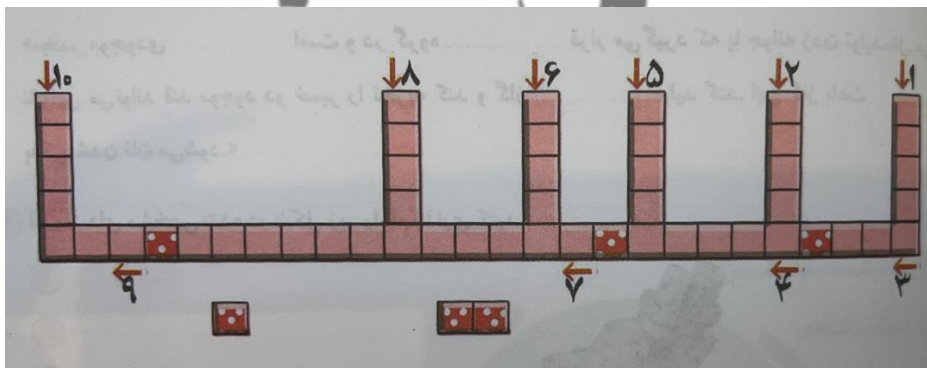
چه غذاهایی در آن کشور میل می کنی ؟

شمال این کشور نوروز را چگونه جشن می گیرند ؟





یکی از شهرهایی که دارای کارخانه نساجی است «شهر بروجرد» است، درباره کارخانه این شهر تحقیق کن و در چند سطر برایم بنویس. به نظر شما بزرگترین مشکل تولید پوشاک در ایران چیست؟



- (۱) یکی از رودهایی که به دریای خزر می ریزد
- (۲) رودی بین دو بندر چابهار و گوآتر
- (۳) یکی از منابع دریای خزر که کشورهای اطراف این دریا به کشف و استخراج از آن مشغول اند.
- (۴) یکی از ماهیان خلیج فارس و دریای عمان
- (۵) خشکی یا قطعه زمینی که دور تا دور آن را آب فرا گرفته است.
- (۶) جزیره ی کوچکی در خلیج فارس
- (۷) به منطقه ای در خلیج فارس گفته می شود که منابع نفت و گاز آن بسیار زیاد است.
- (۸) یکی از رودهایی که به خلیج فارس می ریزد.
- (۹) بریدگی های عمیقی که در کناره های خلیج فارس وجود دارد.
- (۱۰) بخش عمده ای از صادرات و واردات کشور ما از طریق آن ها صورت می گیرد.



درعید نوروز نیایش به همراه پدرش به یک کتابفروشی رفتند . فروشنده ابتدا کتاب های زیر را با ۵ درصد مالیات بر ارزش افزوده محاسبه کرد و سپس با ۱۵ درصد تخفیف فروخت ، پدر نیایش چند تومان برای خریدن کتاب ها پرداخت کرد ؟

(قیمت کتاب داستان ۳۰ هزار تومان و قیمت کتاب علمی ۲۵ هزار تومان است .)



در شهر اردبیل در زمین های روستایی به مساحت ۱۲ کیلومتر مربع فندق کاشته شده است . اگر سالانه از هر هکتار آن ۲۴۰۰۰ کیلو گرم فندق به دست آید و هر کیلوگرم فندق به قیمت ۱۵۰۰۰ تومان صادر شود، درآمد سالانه ی حاصل از این زمین ها چند تومان است ؟



یگانه می خواهد با کمک پدرش حوض کوچکی در حیاط خانه اشان بسازد .

اگر ابعاد حوض او ۴ و ۳ و ۲ متر باشد :

الف) در حوض یگانه چند دسی متر مکعب آب جا می گیرد ؟


ب) به چند متر مربع مصالح نیاز دارند ؟



مادر بهار تصمیم گرفته برای مهمانی شب عید برای هر ۴ نفر یک مرغ کامل بریان کند ، اگر مادر بهار ۱۱ نفر مهمان داشته باشد، به چند مرغ نیاز دارد ؟



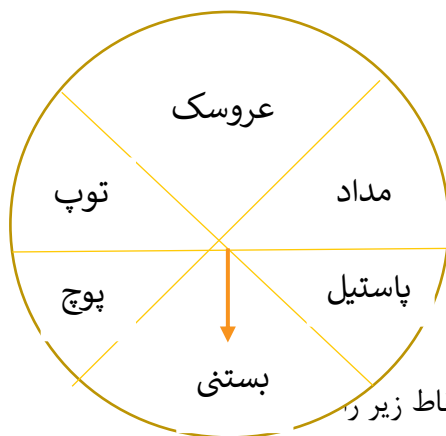
مادر بهار دست کم چند مرغ تهیه کند تا مطمئن شود این تعداد ۲۱ نفر را سیر می کند؟



ساعت سال تحویل ۷:۰۳ است زاویه ی بین عقربه ی بین ساعت شمار و عقربه دقیقه شمار چند درجه است؟



آرمیتا با دوستانش در تعطیلات عید نوروز به شهر بازی رفتند و جلوی چرخنده ی زیر ایستادند بعد از چرخاندن ، عقربه روی هر قسمتی که بایستد جایزه ای که روی آن نوشته شده بود را دریافت می کردند احتمال اینکه آن ها بستنی یا توپ را برنده شدند ، چند درصد است ؟

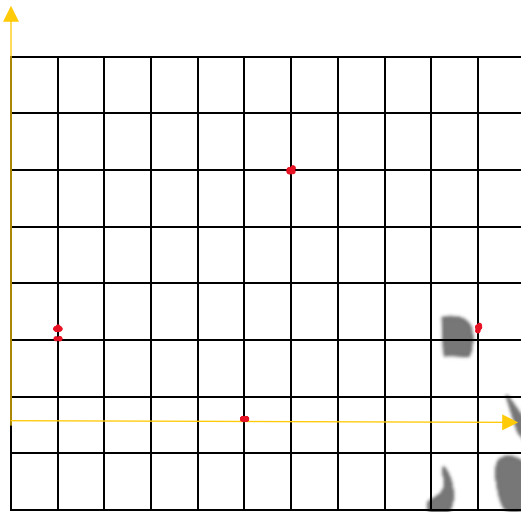


ستایش در خواب دید که یک نقشه گنج پیدا کرده و روی نقشه نقاط زیر را



ابتدا مختصات نقاطی که او در خواب دیده است را بنویس .

سپس مساحت محدوده ی گنج او را محاسبه کن .



آیدا به همرا خانواده اش به تله کابین شهرستان نمک آبرود رفت .

او در وسط صفی ایستاده بود که نفر هفتاد و پنجم بود . از پدرش پرسید : به نظر شما چند نفر داخل این صف هستند که شماره هایشان زوج است ؟



مادربزرگ آرمیتا تصمیم گرفت برای روز ۱۴ فروردین ماه که اولین روز ماه مبارک رمضان است برای ۵۰ نفر شله زرد نذری بپزد او به ۳۰ پیمانه برنج نیم دانه و ۲۰/۵ پیمانه شکر و ۵/۲۵ پیمانه زعفران نیاز دارد .

اگر بخواهد برای ۲۰ نفر شله زرد بپزد به چه مقدار از هر اقلام نیاز دارد ؟



یک ببر و یک اسب قرار است با هم مسابقه ی دوی ۳۰۰ متر بدهند ، اگر سرعت اسب 70% سرعت ببر باشد :

الف (وقتی ببر به نیمه راه برسد ، اسب چند متر دویده است ؟

ب (وقتی اسب به نیمه راه برسد ، ببر چند متر دویده است ؟

ج (وقتی ببر 75% طول مسیر را طی کرده باشد ، اسب چند درصد مسیر را طی کرده است ؟



سالی سراسر شادی و سلامتی داشته باشید

پدیده نوین