

روز دوازدهم فروردین ماه

دختر عزیزم امروز روز سیزدهم فروردین و روز طبیعت است. اگر با خانواده ات به گردش رفتی امیدوارم به شما خوش بگذرد. فقط یادت باشد به طبیعت آسیب نرسانی و محیط زیست را آلوده نکنی. با کلمه های زیر جملات زیبا بنویس. و یک نقاشی زیبا بکش که این کلمات در آن باشد.

..... = سبزه

..... = گل

..... = درخت

..... = رودخانه

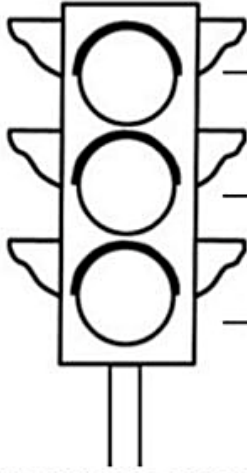
..... = شکوفه

..... = خورشید



روز یازدهم فروردین ماه

چراغ راهنمایی را رنگ کن و بنویس هر رنگ چه پیامی را به ما می رساند.




رنگ یعنی

رنگ یعنی

رنگ یعنی

گل من سه صدای پیام رسان را نام ببر و در زیر آن ها را نقاشی کن.



روز یازدهم فروردین ماه

۲۱- روش هایی را برای سالم ماندن و رشد کردن پیشنهاد کنید.
یکی از کارها نوشته شده است. بقیه را خودت کامل کن.



بهداشت:

غذا:

من برای این که خوب
رشد کنم باید این کارها
را انجام دهم.

روزی ۸ تا ۹ ساعت می خوابم
تا سر حال به مدرسه بروم.


ورزش:



کلمه های مقابل را در ۴ گروه دسته بندی کن.

تره - بنزین - لوبیا - پرتقال - ریحان - انار - ذرت - نفت - عدس - نعناع - سیب - گازوئیل
آنهایی که خودت از نزدیک دیده ای را رنگ بزن.

ساخت ها	میوه ها	سبزی ها	دانه ها




روز دهم فروردین ماه

۲۰- دختر زیبای من، می دانی که با گردش زمین به دور خورشید فصل ها به وجود می آید.

درخت را با توجه به نام فصلی که در کنار آن نوشته شده نقاشی کن و نام ماه های هر فصل را کنار آن بنویس. ماه تولد خودت را مشخص کن.

.....	تابستان	
.....		
.....		


.....	بهار	
.....		
.....		

.....	زمستان	
.....		
.....		

.....	پاییز	
.....		
.....		

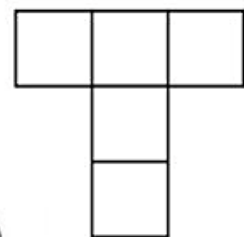
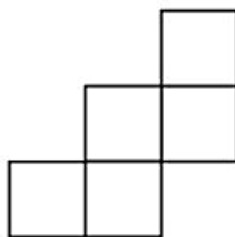
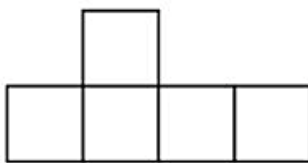
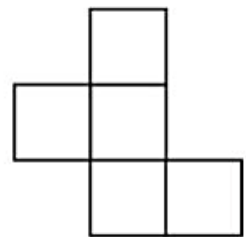
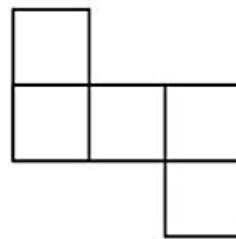
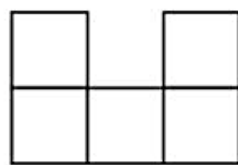
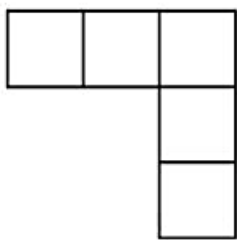
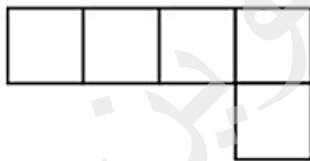
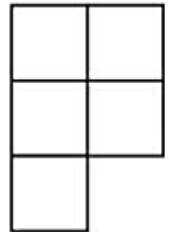
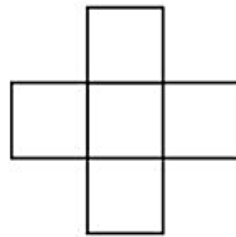
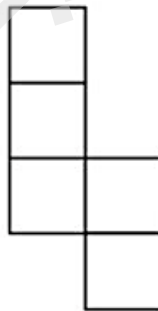

فصل بهار هنگام رویدن گل و گیاهان است. تصویر ۳ گل یا گیاهی را که در این روزها با آنها آشنا

شدی را بکش و نام آنها را بنویس. (می توانی گل ها یا برگ هایی را پیدا کنی و بچسبانی.)



روز دهم فروردین ماه

۲۰- دختر گلم، قطعات را به دلخواه رنگ و سپس معمای زیر را حل کن.



روز نهم فروردین ماه

۱۵- خانم معلم ۳۵ سؤال ریاضی به دانش آموزان کلاس دوم داد.

۱۸ دانش آموز فلفل کلاس به ۲۵ سؤال پاسخ درست دادند. به چند سؤال پاسخ درست ندادند؟

۱۹- چهار وسیله انتخاب کن و آنها را با خط کش یا متر اندازه بگیر و در جدول زیر :

- نام وسیله را بنویس. - نقاشی آن را بکش. - اندازه ی آنها را به سانتی متر و میلی متر بنویس.

نام وسیله	نقاشی وسیله	اندازه به سانتی متر	اندازه به میلی متر

۱۹- یک مستطیل بکش که ۲ ضلع بزرگ آن ۵ سانتی متر و ۲ ضلع کوچک آن ۲ سانتی متر باشد.

وقتی شکل را کشیدی با خلاقیت خودت آن را به یک شکل جدید و زیبا تبدیل کن.



روز نهم فروردین ماه

۱۱- در یک کارگاه خیاطی ۲۴ دکمه وجود دارد. اگر روی هر پیراهن ۴ دکمه دوخته شود، در آخر چند پیراهن آماده می شود.



۱۲- در یک پارکینگ ۳۴ ماشین پارک شده است. ۱۲ تا از این ماشین ها سفید است

چند ماشین به رنگ های دیگر است؟



۱۳- خرگوش کوچولو به همراه مادرش به فروشگاه رفته بود. او یک شکلات ۱۰۰ ریالی، ۴ آب میوه ی ۵۰ ریالی و یک کیک ۲۵۰ ریالی خرید. مادر خرگوش کوچولو چقدر پول به فروشنده داد؟



۱۴- یک قناد در یک روز ۷ کیک تولد درست می کند. او در یک هفته چند کیک تولد درست می کند؟



روز هشتم فروردین ماه

۸- علامت $< = >$ قرار بده.

$۳۰۰ + ۲۰۰ + ۱۰۰$ $۳۰ + ۲۰ + ۱۰$

۳ متر ۳۰۰ سانتی متر

۴۹۰ ۳۹۹

۷ دسته ی ۱۰۰ تایی ۹ دسته ی ۱۰ تایی

$۲۰۰ + ۴۰ + ۷$ $۴۰۰ + ۷۰ + ۲$

۵۰ میلی متر ۱۰ سانتی متر

۹- حاصل جمع و تفریق های زیر را به دست بیاور . سپس جواب را از کوچک به بزرگ مرتب کن.

$$\begin{array}{r} ۴۷۳ \\ + ۲۲۹ \\ \hline \end{array}$$

$$\begin{array}{r} ۵۴۶ \\ + ۲۴۵ \\ \hline \end{array}$$

$$\begin{array}{r} ۷۴۲ \\ - ۳۱۴ \\ \hline \end{array}$$

$$\begin{array}{r} ۹۷۵ \\ - ۴۵۹ \\ \hline \end{array}$$




۱۰- گل من با استفاده از خط کش شکل های زیر را به قسمت های مساوی تقسیم کن و رنگ آمیزی کن.



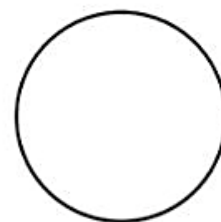
به ۲ قسمت



به ۶ قسمت



به ۴ قسمت



به ۸ قسمت



روز هشتم فروردین ماه

۴- الگوهای زیر را ادامه بده.

۲۰۰ - ۲۵۰ - ۳۰۰ - - - - -


۱۲۰ - ۱۴۰ - ۱۶۰ - - - - -

۷ - ۱۴ - ۲۱ - - - - -

۴۹۵ - ۴۹۶ - ۴۹۷ - - - - -

۳۸ - ۴۰ - ۴۲ - - - - -

۲۰۵ - ۲۱۰ - ۲۱۵ - - - - -



۵- با عددهای ۵ و ۹ و ۴ عددهای دو رقمی و سه رقمی بساز.

عددهای ۳ رقمی:

عددهای ۲ رقمی:

۶- جاهای خالی را با عددهای مناسب پر کن.

یک متر ۱۰۰ سانتی متر است. ۲ متر چند سانتی متر است؟

یک سانتی متر برابر است با میلی متر

۵ سانتی متر برابر است با میلی متر

۳ متر و ۴۰ سانتی متر برابر است با سانتی متر

۶۵ میلی متر برابر است با سانتی متر و میلی متر

۷- عددهای زیر را به حروف بنویسید.

..... : ۶۹۰

..... : ۷۰۶

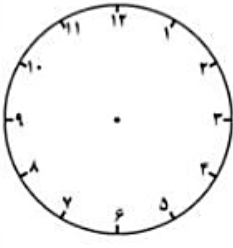
..... : ۵۴۳

..... : ۸۰۹

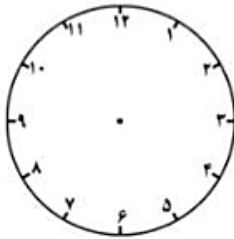


روز هفتم فروردین ماه

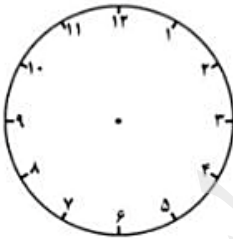
۲- گل من عقربه های این ساعت ها را بگذار. (عقربه ی کوچک با مداد قرمز و عقربه ی با مداد سیاه.)
ساعت چند است؟



۹:۲۰



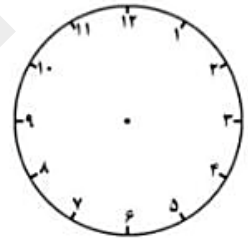
۱۲:۳۰



۱۰:۱۵

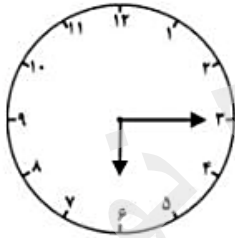


۴:۴۵



۲:۵۵

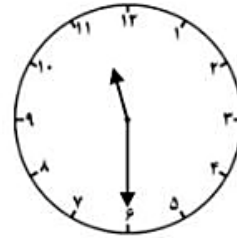
۳- ساعت چند است؟



ساعت و دقیقه است.

..... :

ساعت و دقیقه



ساعت و دقیقه است.

..... :

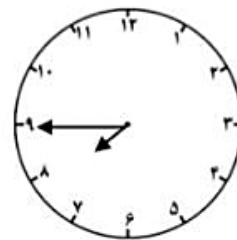
ساعت و دقیقه



ساعت و دقیقه است.

..... :


ساعت دقیقه مانده به



ساعت و دقیقه است.

..... :

ساعت دقیقه مانده به



روز هفتم فروردین ماه

۱- دختر خوبم پول های هر بادکنک را بشمار و بنویس.

این پول ها را دانش آموزان کلاس دوم برای کودکان نیازمند جمع آوری کرده اند.

این کار شما را یاد کدام ضرب المثل فارسی می اندازد؟
.....
.....


نام	مبلغ (ریال)
آوینا جون	۱۰۰
درسا جون	۵۰
کیما جون	۵۰
لیا جون	۲۵۰
عسل جون	۲۵۰
لینا جون	۵۰
سما جون	۱۰۰
درسا جون	۵۰
کیما جون	۱۰۰
ماتی جون	۱۰۰
هستی جون	۵۰
شما جون	۱۰۰
عسل جون	۲۵۰
بنیا جون	۵۰
باران جون	۵۰
مهتاب جون	۵۰
روانا جون	۲۵۰
ملینا جون	۵۰

ریال
ریال
ریال

۹

روز ششم فروردین ماه

نویسنده کوچک ، چند سطر در مورد ایران زیبا بنویس.



زیبای من درس درس پنجم کتاب فارسی را بخوان و یک داستان شبیه آن بنویس.

.....

.....

.....

.....

.....

.....

.....

.....

.....

.....

.....

.....



روز ششم فروردین ماه

۸- جاهای خالی را با کلمه ی مناسب پر کن.

به برادر پدرم می گویم. به برادر مادرم می گویم.
به خواهر مادرم می گویم. به خواهر پدرم می گویم.

۹- در هر دسته کلمه ی مشترک کدام است؟



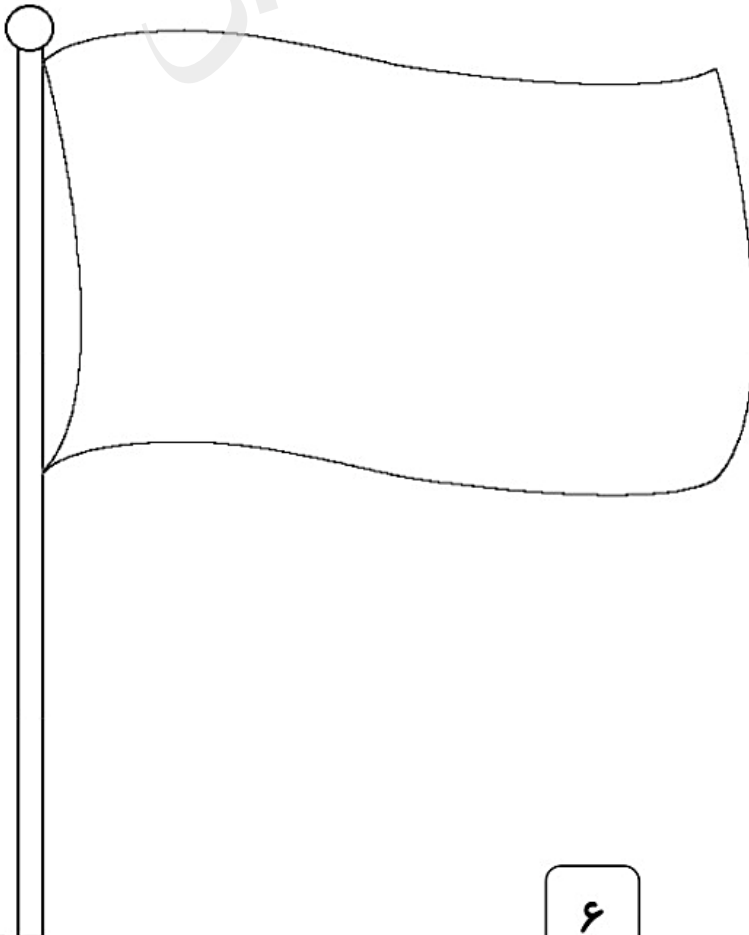
خوشحال - خوشمزه - خوش رفتار - خوشگل

امروز - روزانه - دیروز - روزمره

پرواز - پریدن - پرنده - پرستو

خواستم - نمی خواستم - می خواستید - خواسته



۱۰- گل های مهربانم، پرچم کشور عزیزمان ایران را کامل بکشید و سپس آن را رنگ آمیزی کنید.



bustannoor.blogfa.com

روز ششم فروردین ماه

۷- دلبندم کلمات هم معنی بال سمت راست پروانه را هم رنگ کن.
و کلمات مخالف بال سمت چپ را هم رنگ کن.



روز پنجم فروردین ماه

۵- در جدول زیر هر مکان در چه شهری قرار دارد.

مکان	شهر
حرم امام رضا(ع)	
حرم حضرت معصومه(ع)	
آرامگاه حافظ و سعدی	
آرامگاه فردوسی	
بیستون	
تخت جمشید	
سی و سه پل	
میدان آزادی	
ماسوله	
ارگ بم	
برج میلاد	




۶- این تخم مرغ ها را هر طور که دوست داری برای سال نو رنگ آمیزی کن.



روز پنجم فروردین ماه

۱- عزیزم، اهل بیت پیامبر(ص) را داخل گلبرگ های این گل بنویس.



۲- دختر گلم به این علامت ها چه می گویند؟ (ˆ ˆ ˆ)


- ساکن صدای بلند تنوین صدای کوتاه

۳- چگونه با خدا حرف می زنیم و از او تشکر می کنیم؟

- نماز می خوانیم قرآن می خوانیم اسراف نمی کنیم به دیگران کمک می کنیم

۴- امام دوازدهم ما چه کسی است؟

- حضرت علی(ع) حضرت مهدی(عج) امام حسن(ع) امام حسین(ع)



روز چهارم فروردین ماه

دختر زیبای من!


سلام، عیدت مبارک و لبانت پر از خنده و شادی
آرزو می‌کنم ایام عید در کنار خانواده ات به شما خوش بگذرد و بعد از تعطیلات با خاطرات خوش به
مدرسه بیایی.



ما دو هفته از هم دور هستیم. هر روز ۲ صفحه از این
پیک را انجام بده تا مطالبی را که در روزهای پاییز و زمستان
با هم یاد گرفتیم، فراموش نکنی.
گل زیبای من در این ایام سعی کن دو کتاب داستان بخوانی.
سپاس از دختر مهربانم.

تصویر کن در حرم نورانی امام رضا(ع) هستی.

هر طور که دوست داری با امام هشتم صحبت کن و آن‌ها را بنویس.



.....

.....

.....

.....

.....

.....

نام ۵ پیامبر مهم را که در درس هدیه های آسمانی یاد گرفته ای بنویس.

.....

روز چهارم فروردین ماه

یا مقلب القلوب و الابصار
یا مدبر الیل و النهار
یا مؤول العول و الاحوال
حول حالنا الی احسن الحال

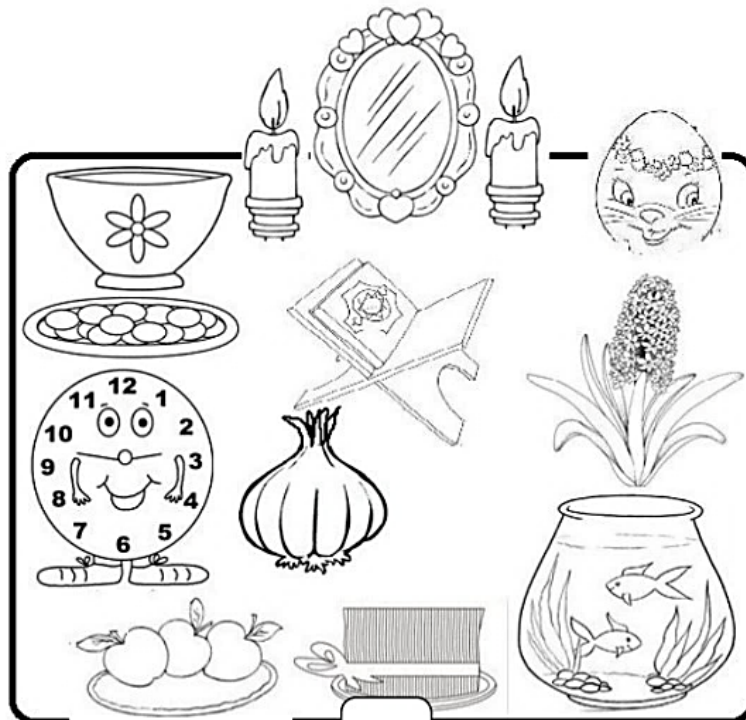
ای دگرگون کننده ی قلب ها و دیده ها
ای پدیدآورنده ی روزها و شب ها
ای تغییر دهنده ی حال و احوال ما
حال ما را به نیکوترین حال تغییر بده.

پروردگار مهربانم

از تو سپاسگزارم که یک بهار دیگر را در کنار عزیزانم تجربه می کنم.
دیدن شکوفه های بهاری و زنده شدن دوباره ی طبیعت و سرسبزی و
شادابی بهار همه نشانه ی
قدرت توست. از تو می خواهم تا همیشه مرا یاری کنی که بتوانم در
درس هایم موفق باشم و بتوانم با دستان کوچکم موفقیت های بزرگ
را برای ایران عزیز به ارمغان بیاورم.



در این سال نو سلامتی و خوشبختی را برای همه کسانی که دوستشان دارم آرزو می کنم.





بهار را



دبستان و آمادهای هیردوس
پدیده نوین



دبستان دخترانه پدیده نوین

سال تحصیلی ۱۴۰۲-۱۴۰۳

